

# Carpeta virtual N°10

1ª

Mes de Octubre.



Seño Lorena.

- Completan los alumnos/as.
- Nombre y apellido:.....
- Fecha de entrega: viernes 21 de octubre del 2016.

1)

1 Rodea lla, lle, li, llo, llu.



2 Elige la palabra correcta. Después, completa.



calla valla

Guillermo salta la



servilleta galleta

El pollito pica la

3 Lee cada vez más deprisa. Después, rodea cada ll.




El camello le dijo a la ardilla:  
-¡Saltas de maravilla!

2) COMPLETAMOS CON PALABRAS QUE YA CONOCEMOS.



• COMPLETÁ EL CRUCIGRAMA.



• COPIÁ LAS PALABRAS QUE DESCUBRISTE EN EL CRUCIGRAMA.

.....

.....

.....

..A B C D E F G H I J K L M N Ñ O P Q R S T U V W X Y Z.....

3) EN CURSIVA.

• Repasá el nombre de la fruta. Luego, **copialo** en el renglón.



mandarina mandarina mandarina

---




mandarina mandarina

---



mandarina mandarina


---



mandarina mandarina

---

• Dibujá tu fruta preferida y **escribí** su nombre en letra cursiva.



---

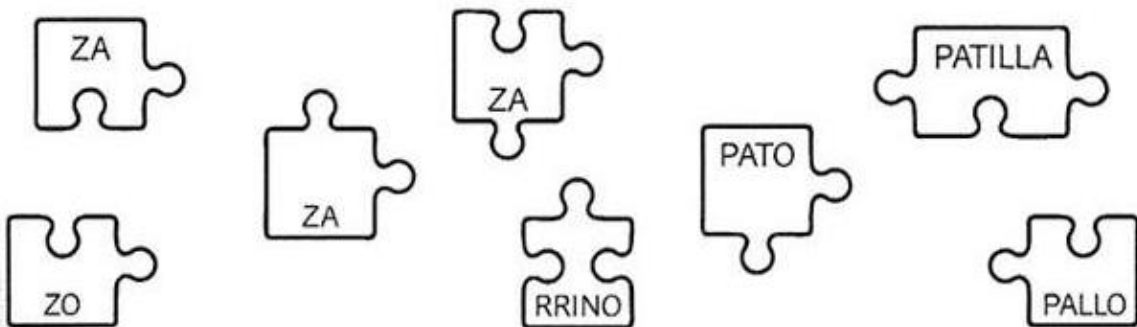


4)

• **BUSCÁ** EN LA HABITACIÓN LOS OBJETOS CUYOS NOMBRES EMPIEZAN CON **Z** Y **PINTALOS**.



• **UNÍ** CON FLECHAS LAS PIEZAS QUE FORMAN EL NOMBRE DE CADA OBJETO QUE COLOREASTE.



## 5) RESOLVEMOS:

Paquetitos que valen 10

1. Escribe el número que está representado en cada caso y marca con un  el mayor.

a.

b.

2. Ordena de menor a mayor los números mostrados por las niñas y los niños.

63      83      43      53

□      □      □      □

## 6) COMPLETAMOS.

10 → 20 → 30 → □ → □ → □ → □ → □ → 90

90 → 80 → 70 → □ → □ → □ → □ → □ → 10

CÁLCULO MENTAL

3 + 4	5 + 3	2 + 1	3 + 6	4 + 4	2 + 7
30 + 40	50 + 30	20 + 10	30 + 60	40 + 40	20 + 70

## 7) Sumas

Suma.

$\begin{array}{r} 10 \\ + 20 \\ \hline 30 \end{array}$	$\begin{array}{r} 10 \\ + 50 \\ \hline \square \end{array}$	$\begin{array}{r} 60 \\ + 10 \\ \hline \square \end{array}$	$\begin{array}{r} 60 \\ + 20 \\ \hline \square \end{array}$	$\begin{array}{r} 30 \\ + 60 \\ \hline \square \end{array}$
--------------------------------------------------------	-------------------------------------------------------------	-------------------------------------------------------------	-------------------------------------------------------------	-------------------------------------------------------------

## 8) Descomponemos los siguientes números en unos y dieces.

